
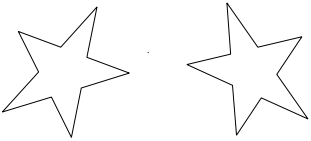






Knobelaufgaben September

1. Klasse

Male die Sterne in jedem Fach mit der gleichen Farbe aus. Wechsle beim nächsten Fach dann die Farbe. Male dann die dazu passende Zahlkarte mit der gleichen Farbe aus.

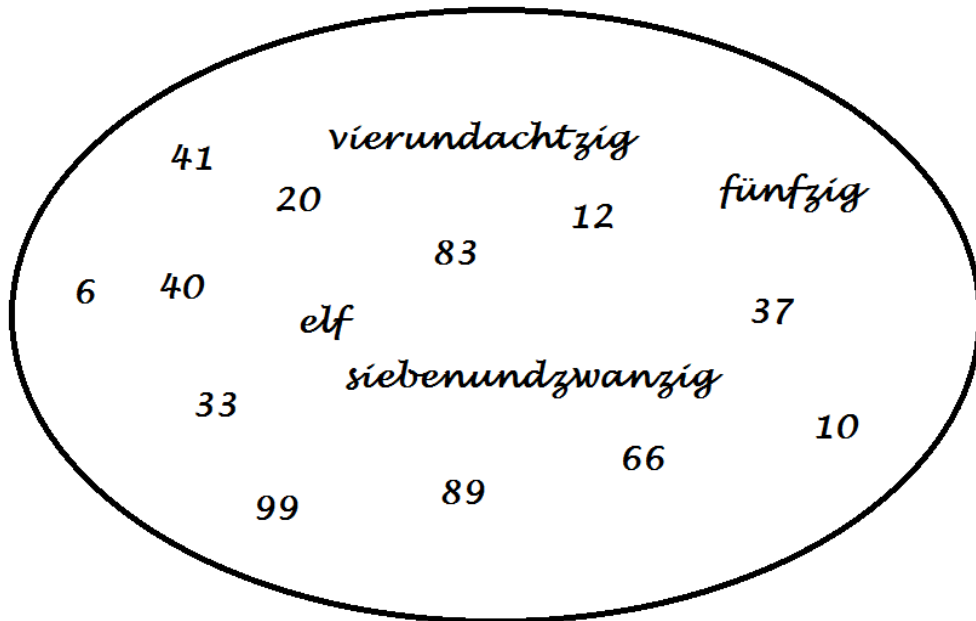
Bitte vorlesen

	3
	6
	5
	4
	2
	1

Knobelaufgaben September

2. Klasse

1.) Schreibe alle Zahlen heraus und ordne sie anschließend von der kleinsten zur größten Zahl.



2.) Schreibe nur die Zehnerzahlen heraus. Addiere sie anschließend.

Knobelaufgaben September

3. Klasse

1.) Ordne die Zahlen nach der Größe. Beginne mit der größten Zahl.

527		245			
	9		378		
378		606	677	707	

2.) Ordne die Zahlen nach der Größe. Beginne mit der kleinsten Zahl.

225	dreihundertelf	
5H+6Z+9E	367	
neunhundertundfünfzig	568	
729		

3.) Bilde aus den Ziffern 3 und 4 alle möglichen dreistelligen Zahlen.

Knobelaufgaben September

4. Klasse

1.) Wie heißt die kleinste dreistellige Zahl? _____

2.) Meine Zahl hat die Ziffern 3, 2, 1 und 4.

Sie liegt zwischen 1.200 und 1.300. Wie könnte sie heißen? Entdecke verschiedene Möglichkeiten.

3.) Meine Zahl liegt genau zwischen 2.500 und 3.000.

Sie heißt: _____

4.) Ermittle die Differenz der kleinsten vierstelligen und der größten zweistelligen Zahl.
