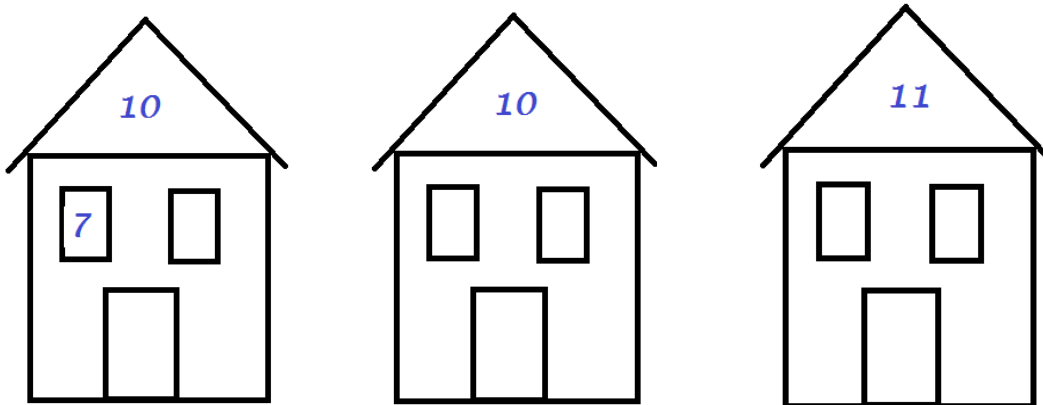


Knobelaufgaben November

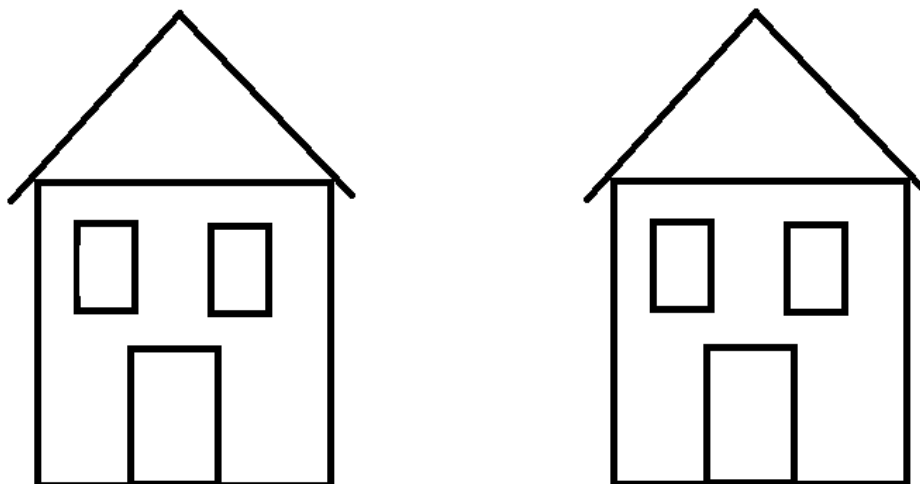
1. Klasse

Bitte vorlesen

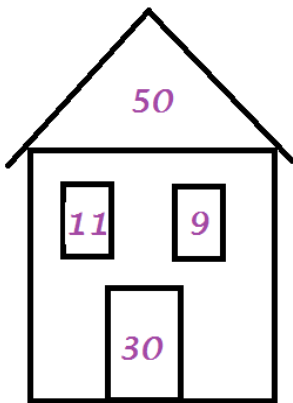
1.) Setze die Zahlen 2, 3, 4, 6 und 9 in das jeweils passende Fenster. Es muss sich immer die Zahl im Dach ergeben. Bilde anschließend die umgekehrte Aufgabe.



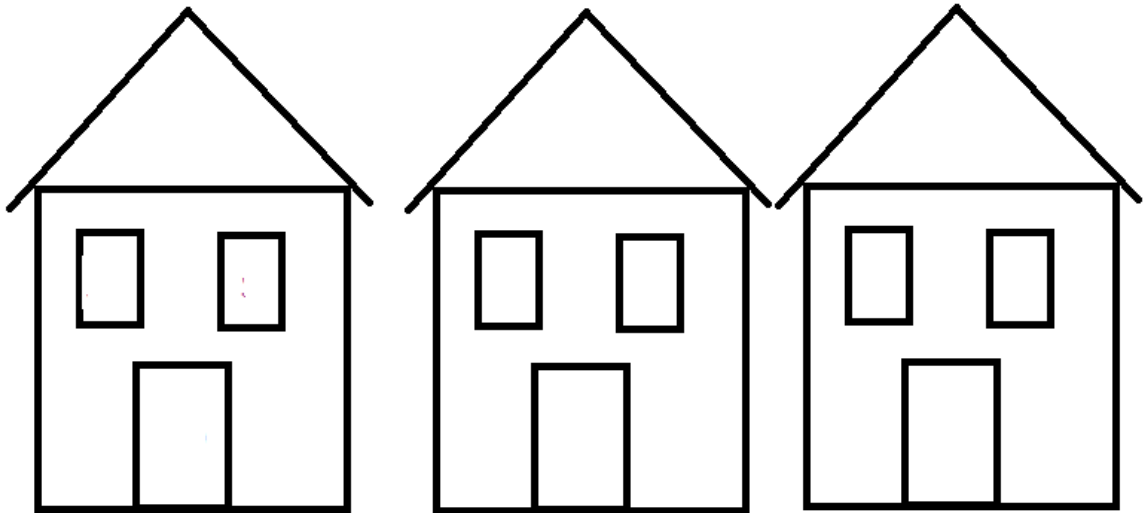
2.) Fülle zwei Häuser mit den Zahlen deiner Wahl und schreibe wieder die Aufgaben auf. Die größte Zahl wohnt im Dach. Sie soll zwischen 11 und 15 liegen.




2. Klasse



Finde passende Zahlen, so dass sich beim Addieren die Zahl im Dach ergibt. Finde anschließend eine Subtraktionsaufgabe.



Zusatz: Fülle zwei Häuser mit deinen eigenen Zahlen. Die größte Zahl soll diese Mal in der Tür stehen.



3. Klasse

Markiere die Angaben mit der jeweils gleichen Farbe, die zueinander passen.

$\frac{1}{2}$ Stunde	500 g	
2 Zentner		
1 Jahr	405 cm	450 cm
3.500 g	70 cm	1 m

100 kg	7 dm	
3, 5 kg	4, 5 m	
4, 05 m	52 Wochen	
30 min	10 dm	2 Pfund

100 cm	2 Viertelstunden	
$\frac{1}{2}$ kg	365 Tage	4 m 50 cm
	4m 5 cm	
3 kg 500 g	700 mm	100.000 g

4. Klasse

Sortiere in das jeweilige Feld alle passenden Begriffe ein. Finde die dazu gehörige Aufgabe, löse sie und notiere sie in das entsprechende Feld.

Addition
subtrahieren
Quotient
Faktor

Summand	Minuend	addieren	Faktor	
Dividieren	30 x40	Summe	Differenz	
5.100 + 4.903	multiplizieren	Dividend		
Multiplikation	9.100 : 90	Subtrahend	9.100 – 5.300	
Summand	Subtraktion	Division	Produkt	Divisor