











Knobelaufgaben November

2. Klasse

 = 0	 = 5
 = 1	 = 6
 = 2	 = 7
 = 3	 = 8
 = 4	 = 9

$$\star \downarrow + \star \circ = \leftarrow \uparrow$$

$$\star \rightarrow + \diamond \uparrow = \underline{\quad}$$

$$\leftarrow \triangle + \star \square = \underline{\quad}$$

Jedes Zeichen steht für eine bestimmte Zahl. Ordne jedem Zeichen rechts eine Zahl zu und versuche, die Aufgaben zu lösen.